

تقييم مادة الرياضيات للفصل الأول

معلمنا الأولي يسبرلي
أبي بكش الصديق بن أحمد خرازي • أ
محمد بن ناصر ناصر • ب

الرقم



المدة: ساعتان



اليوم ربيع الأول 1439 هـ الموافق لـ ديسمبر 2017 م

اللقب والاسم:

التمرين الأول: أشطب الأشياء الزائدة الموجودة داخل كل حيز والتي تكون أكثر من عشر 10. ر.



التمرين الثاني: أحوط الرقم (صفر) الموجود في المجموعة.

2

0

9

0

8






1

0

4



التمرين الثالث: ألاحظ جيدا الحيوانات الموجودة داخل الحيز ثم أدون المعلومات داخل الجدول.

الحيوان	العدد
	3
	
	
	
	



التمرين الرابع: ألون كل قاطرة من قاطرات قطارنا الجميل بترتيبها حسب المطلوب.

القاطرة الرابعة **خضراء** • التاسعة **برتقالية** • الثانية **زرقاء** • السابعة **صفراء**
الثالثة **حمراء** • الثامنة **بنفسجية** • السادسة **رمادية** • الخامسة **بنية**.

مثال: القاطرة الأولى بيضاء



التمرين الخامس: أستمع جيدا إلى ما يمليه علي معلمي ثم أكتب الأرقام داخل الحيز.



ملاحظات وامضاء الوالي:

مك: مكتسب **طك**: في طريق الاكتساب **غك**: غير مكتسب

ملاحظات المعلم:

.....

.....

.....